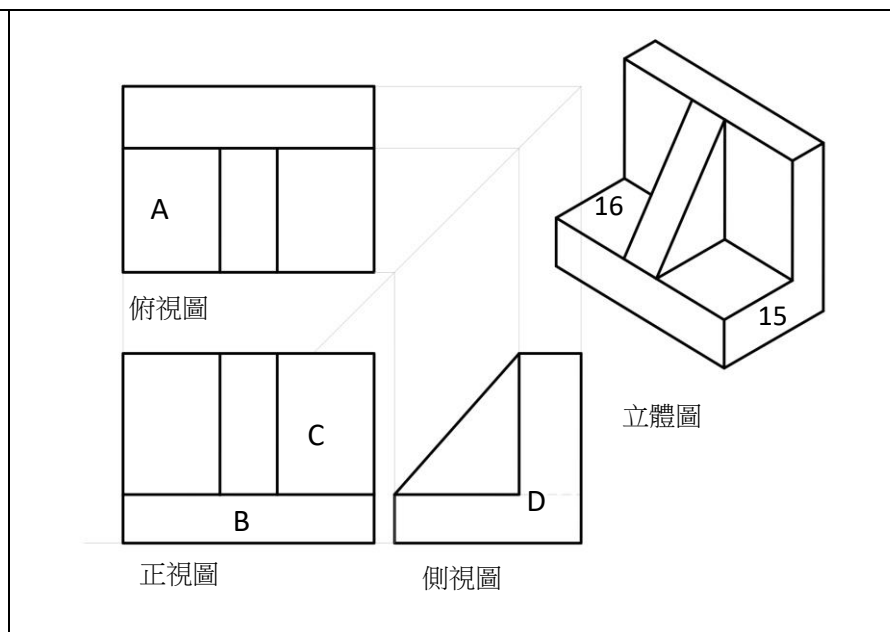
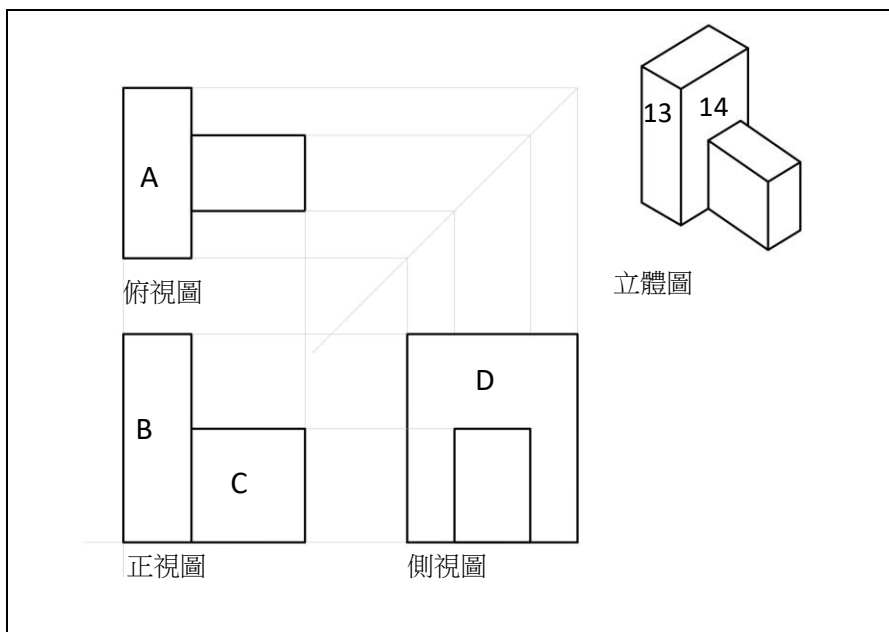


試題說明：請於答案卷作答，否則不予計分。

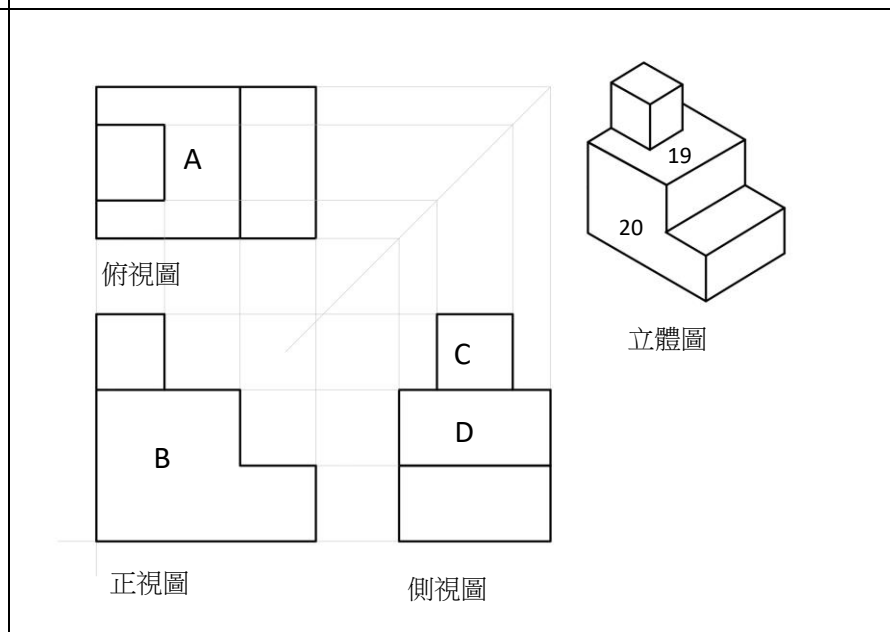
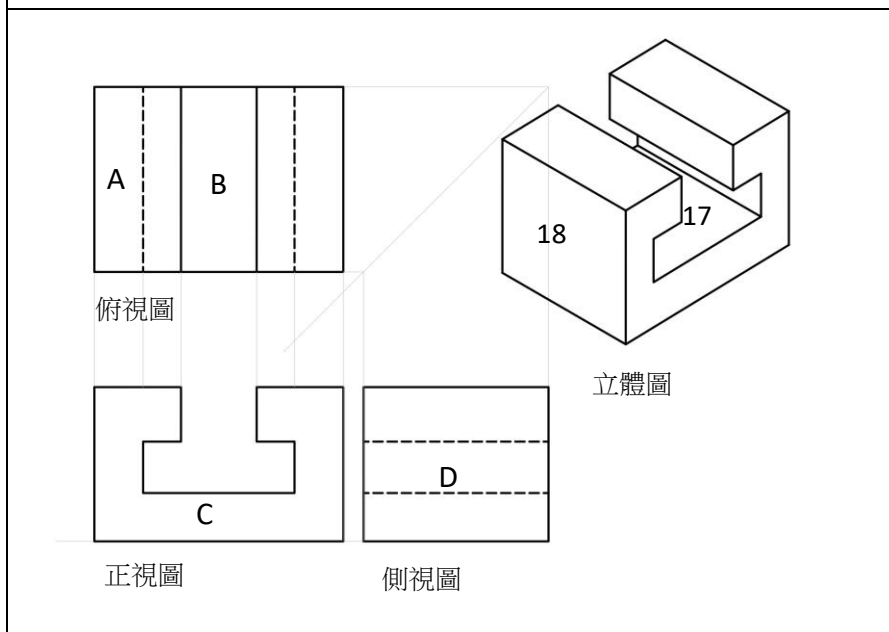
壹、三視圖(每小題 2 分，共 40 分)(請回答圖中的數字分別為 ABCD 哪一個面?每題各有兩個答案，請依題號順序填入答案卷中，每 1 大題有 2 小題，共 20 題)

<p>俯視圖</p> <p>正視圖</p> <p>側視圖</p> <p>立體圖</p>	<p>俯視圖</p> <p>正視圖</p> <p>側視圖</p> <p>立體圖</p>
<p>一. 請根據圖面資訊回答立體圖中 1、2 分別為 ABCD 哪一個面?</p>	<p>二. 請根據圖面資訊回答立體圖中 3、4 分別為 ABCD 哪一個面?</p>
<p>俯視圖</p> <p>正視圖</p> <p>側視圖</p> <p>立體圖</p>	<p>俯視圖</p> <p>正視圖</p> <p>側視圖</p> <p>立體圖</p>
<p>三. 請根據圖面資訊回答 5、6 立體圖中分別為 ABCD 哪一個面?</p>	<p>四. 請根據圖面資訊回答 7、8 立體圖中分別為 ABCD 哪一個面?</p>
<p>俯視圖</p> <p>正視圖</p> <p>側視圖</p> <p>立體圖</p>	<p>俯視圖</p> <p>正視圖</p> <p>側視圖</p> <p>立體圖</p>
<p>五. 請根據圖面資訊回答立體圖中 9、10 分別為 ABCD 哪一個面?</p>	<p>六. 請根據圖面資訊回答立體圖中 11、12 分別為 ABCD 哪一個面?</p>



七. 請根據圖面資訊回答立體圖中 13、14 分別為 ABCD 哪一個面?

八. 請根據圖面資訊回答立體圖中 15、16 分別為 ABCD 哪一個面?



九. 請根據圖面資訊回答立體圖中 17、18 分別為 ABCD 哪一個面?

十. 請根據圖面資訊回答 19、20 立體圖中分別為 ABCD 哪一個面?

貳、植物識別(每小題 2 分，共 60 分)

請根據以下圖片寫出正確植物名稱(錯別字扣 1 分)。

<p>1</p> 	<p>2</p> 
<p>3</p> 	<p>4</p> 
<p>5</p> 	<p>6</p>  





19




20



21



22



23



24



25



26



27



28



29



30



國立北門高級農工職業學校

112 學年度特色招生專業群科甄選入學 造園科 答案卷

考生准考證號：_____ 考生姓名：_____

彌封線

答案欄

壹、三視圖(每小題 2 分，共 40 分)				
1	2	3	4	5
D	C	B	D	A
6	7	8	9	10
B	D	C	A	D
11	12	13	14	15
B	D	B	D	D
16	17	18	19	20
A	B	D	A	B
貳、植物識別(每小題 2 分，共 60 分)				
1	2	3	4	5
木瓜	柿子	葡萄	四季秋海棠	百香果
6	7	8	9	10
空心菜	龍眼	黃秋葵	甜椒	絲瓜
11	12	13	14	15
芹菜	桃	花椰菜	桑葚	春不老
16	17	18	19	20
青江菜	黃椰子	阿勃勒	石斛蘭	大王椰子
21	22	23	24	25
千日紅	火龍果	黃花風鈴木	番茄	甘藍(高麗菜)
26	27	28	29	30
茼蒿	金蓮花	迷迭香	芒果	胡蘿蔔