

國立北門高級農工職業學校特色招生考古題(造園科)

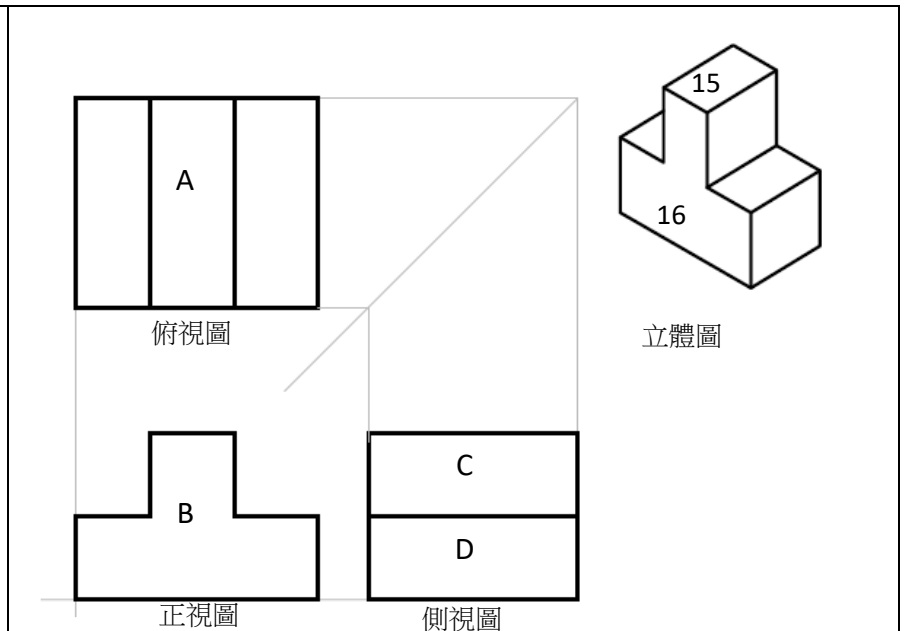
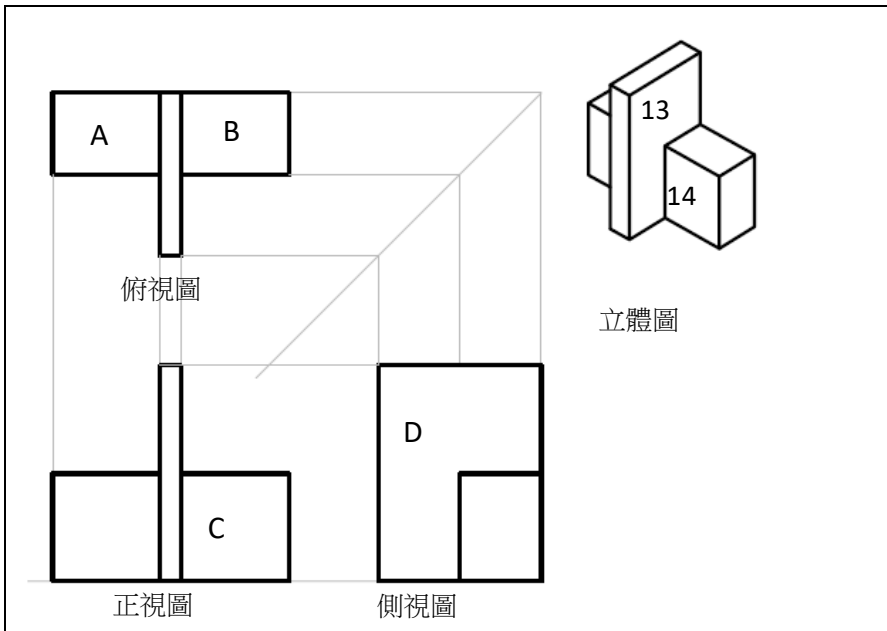
試題說明：

1.請考生於答案卷寫上准考證號、姓名。

2.請於答案卷作答，否則不予計分。

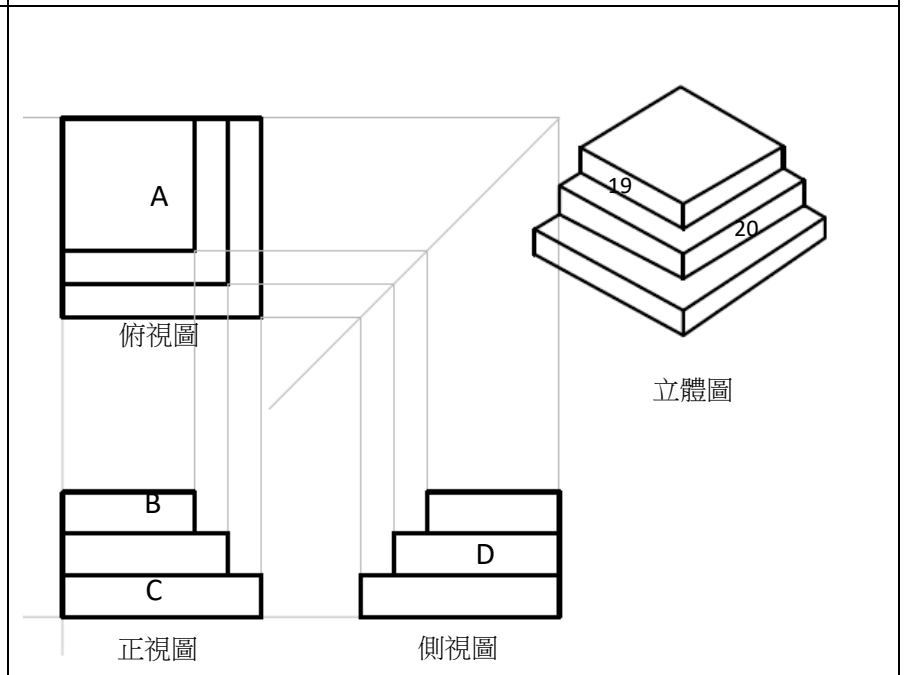
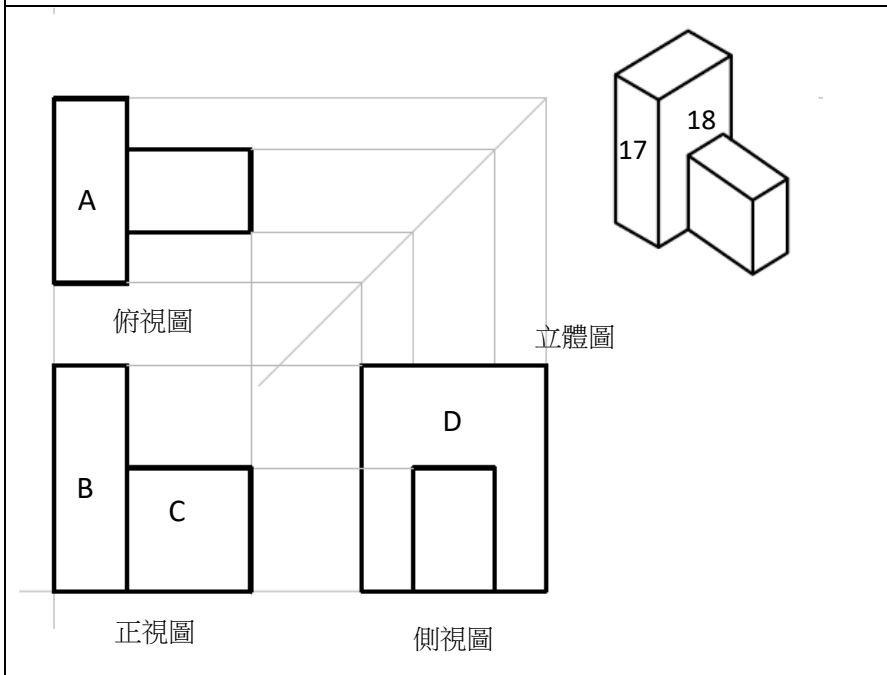
壹、三視圖(每小題 2 分，共 40 分)

| | |
|---|---|
| <p>俯視圖</p> <p>正視圖</p> <p>側視圖</p> <p>立體圖</p> | <p>俯視圖</p> <p>正視圖</p> <p>側視圖</p> <p>立體圖</p> |
| <p>一. 請根據圖面資訊回答 1、2 分別為 ABCD 哪一個面?</p> | <p>二. 請根據圖面資訊回答 3、4 分別為 ABCD 哪一個面?</p> |
| <p>俯視圖</p> <p>正視圖</p> <p>側視圖</p> <p>立體圖</p> | <p>俯視圖</p> <p>正視圖</p> <p>側視圖</p> <p>立體圖</p> |
| <p>三. 請根據圖面資訊回答 5、6 分別為 ABCD 哪一個面?</p> | <p>四. 請根據圖面資訊回答 7、8 分別為 ABCD 哪一個面?</p> |
| <p>俯視圖</p> <p>正視圖</p> <p>側視圖</p> <p>立體圖</p> | <p>俯視圖</p> <p>正視圖</p> <p>側視圖</p> <p>立體圖</p> |
| <p>五. 請根據圖面資訊回答 9、10 分別為 ABCD 哪一個面?</p> | <p>六. 請根據圖面資訊回答 11、12 分別為 ABCD 哪一個面?</p> |



七、請根據圖面資訊回答 13、14 分別為 ABCD 哪一個面？

八、請根據圖面資訊回答 15、16 分別為 ABCD 哪一個面？



九、請根據圖面資訊回答 17、18 分別為 ABCD 哪一個面？



十、請根據圖面資訊回答 19、20 分別為 ABCD 哪一個面？



貳、植物識別(每小題 2 分，共 60 分)

請根據以下圖片寫出正確植物名稱(錯別字扣 1 分)。









23



24



25



26




27



28



29



30



答案欄

| 壹、三視圖(每小題 2 分，共 40 分) | | | | |
|------------------------|-----------|-----------|-----------|-----------|
| 1 | 2 | 3 | 4 | 5 |
| B | C | A | D | B |
| 6 | 7 | 8 | 9 | 10 |
| D | A | B | C | D |
| 11 | 12 | 13 | 14 | 15 |
| A | B | D | C | A |
| 16 | 17 | 18 | 19 | 20 |
| B | B | D | B | D |
| 貳、植物識別(每小題 2 分，共 60 分) | | | | |
| 1 | 2 | 3 | 4 | 5 |
| 木瓜 | 芒果 | 草莓 | 四季秋海棠 | 梨 |
| 6 | 7 | 8 | 9 | 10 |
| 空心菜 | 紅蘿蔔 | 芹菜 | 甜椒茼蒿 | 絲瓜番茄 |
| 11 | 12 | 13 | 14 | 15 |
| 蝴蝶蘭 | 百香果 | 桑葚 | 辣椒 | 馬櫻丹 |
| 16 | 17 | 18 | 19 | 20 |
| 石竹 | 火焰木 | 阿勃勒 | 鳳凰木 | 大王椰子 |
| 21 | 22 | 23 | 24 | 25 |
| 千日紅 | 火龍果 | 黃花風鈴木 | 繁星花 | 楓香 |
| 26 | 27 | 28 | 29 | 30 |
| 春不老 | 變葉木 | 迷迭香 | 月橘 | 桂花 |