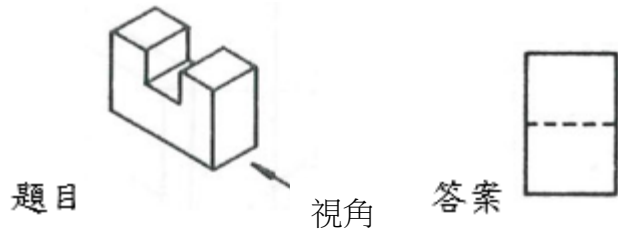


請參看範例：

1. 依據俯視圖、右視圖，選擇正確之立體視圖。
2. 依據箭頭所表示方向，選擇正確之視圖。
3. 請將正確答案(選項區)內，選入題目區()中



請開始作答：

第一部份：製圖實習 60% 請由箭頭方向選出對的視圖

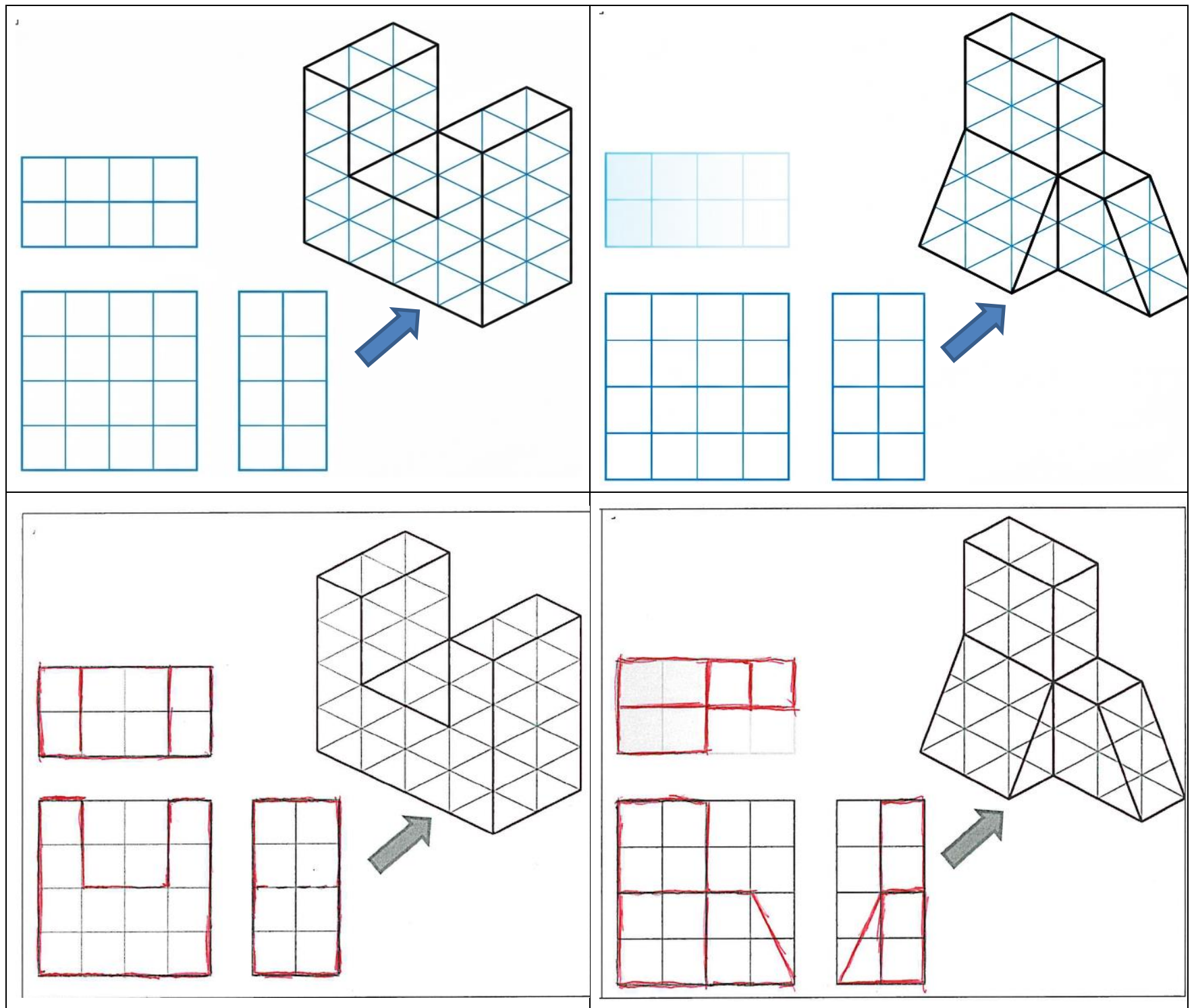
一、立體圖選三視圖，選項可重複選擇 題目區 (每題 5 分)

| | | | |
|--------------|---------------|---------------|---------------|
| 1. () J | 2. () K | 3. () E | 4. () B |
| 5. () A | 6. () L | 7. () G | 8. () F |
| 9. () L | 10. () D | 11. () I | 12. () C |

選項區

| | | | |
|--------|--------|--------|--------|
| A. | B. | C. | D. |
| E. | F. | G. | H. |
| I. | J. | K. | L. |

二、繪製三視圖 20%





第三部份:游標卡尺實習 20%

| | |
|--|--|
| | <p>本尺 1 格為 1MM</p> <p>游尺 1 格 0.02MM</p> <p>判讀說明：本尺為小數點前數字，游尺為小數點後數字，數字 0 為本尺數字，圖中 0 的位置在 80 前 2 格，數字為 78(超過 78 未達 79)，箭頭位置為游尺與本尺對齊處，從 0 到對齊處共有 8 格，1 格 0.02*8 格=0.16 78+0.16=78.16</p> |
|--|--|

1. 尺寸判讀(每題 5 分):

| | |
|-----------------|-----------------|
| (1) 答案(61.54) | (2) 答案(80.94) |
|-----------------|-----------------|



2. 游標卡尺操作(10分):

請利用桌面上游標卡尺，將尺寸調整成 52.82mm

