

試題說明：

1. 請考生於答案卷寫上准考證號、姓名。

2. 請於答案卷作答，否則不予計分。

壹、植物識別_單選題(每小題 2 分，共 40 分)

(請依據題目提供的圖片選擇正確的植物名稱，每題只有一個答案)

<p>1</p>  <p>請問圖片為何種植物? (A)酪梨 (B) 木瓜 (C)奇異果 (D)百香果</p>	<p>2</p>  <p>請問圖片為何種植物? (A)梨 (B) 梅 (C)桃 (D)李</p>
<p>3</p>  <p>請問圖片為何種植物? (A)蘋果 (B) 葡萄 (C)獼猴桃 (D)百香果</p>	<p>4</p>  <p>請問圖片為何種植物? (A)蕹菜 (B)高麗菜 (C)菠菜 (D)青江菜</p>
<p>5</p>  <p>請問圖片為何種植物? (A)楊桃 (B) 木瓜 (C)奇異果 (D)百香果</p>	<p>6</p>  <p>請問圖片為何種植物? (A)酪梨 (B)龍眼 (C)芒果 (D)荔枝</p>

7



請問圖片為何種植物？

- (A)圓仔花 (B)蔥花 (C)野薑花 (D)蒜花

8



請問圖片為何種植物？

- (A)萵苣 (B)茼蒿 (C)菠菜 (D)青江菜

9



請問圖片為何種植物？

- (A)梨 (B)梅 (C)桃 (D)李


10



請問圖片為何種植物？

- (A)金蓮花 (B)金盞花 (C)金魚草 (D)薰衣草

11



請問圖片為何種植物？

- (A)大葉山欖 (B)大王椰子 (C)馬拉巴栗 (D)黃金風鈴木

12



請問圖片為何種植物？

- (A)羅漢松 (B)落羽松(杉) (C)肯氏南洋杉 (D)小葉南洋杉

13



請問圖片為何種植物?

- (A) 桑椹 (B) 酪梨 (C) 香蕉 (D) 柿子

14



請問圖片為何種植物?

- (A) 金蓮花 (B) 金盞花 (C) 金魚草 (D) 薰衣草

15



請問圖片為何種植物?

- (A) 酪梨 (B) 百合 (C) 秋葵 (D) 絲瓜

16



請問圖片為何種植物?

- (A) 蝦蟆秋海棠 (B) 西洋白花菜 (C) 四季秋海棠 (D) 非洲鳳仙花


17



請問圖片為何種植物？

- (A) 欖仁樹 (B) 菩提樹 (C) 黃椰子 (D) 大王椰子

18



請問圖片為何種植物？

- (A) 金蓮花 (B) 馬纓丹 (C) 布袋蓮 (D) 九重葛

19



請問圖片為何種植物？

- (A) 鵝掌藤 (B) 石斛蘭 (C) 蝴蝶蘭 (D) 醉蝶花

20






請問圖片為何種植物？

- (A) 菩提樹 (B) 羅漢松 (C) 麵包樹 (D) 美人樹


貳、植物識別_填充題(每小題 2 分，共 60 分)




請根據以下圖片寫出正確植物名稱(錯別字扣 1 分)。











國立北門高級農工職業學校

115 學年度特色招生專業群科甄選入學 造園科 答案卷

考生准考證號：_____ 考生姓名：_____

彌封線

答案欄

壹、植物識別_單選題(每小題 2 分，共 40 分)				
1	2	3	4	5
B	C	B	A	D
6	7	8	9	10
B	B	B	B	A
11	12	13	14	15
C	D	A	B	B
16	17	18	19	20
A	A	C	B	D
貳、植物識別_填充題(每小題 2 分，共 60 分)				
1	2	3	4	5
菊花	柳樹(楊柳)	聖誕紅	胡(紅)蘿蔔	芒果(檬果)
6	7	8	9	10
梅	馬拉巴栗	黃金葛	火焰木	西瓜椒草
11	12	13	14	15
芹菜	蘿蔔	馬纓丹	茼蒿	蝴蝶蘭
16	17	18	19	20
青江菜	楊桃	阿勃勒(波斯皂莢)	桂花	一串紅
21	22	23	24	25
九重葛	春不老	黃花風鈴木	吊蘭	櫻花(櫻桃)
26	27	28	29	30
茼蒿	火龍果	迷迭香	鵝掌藤	菩提樹